




2-50

КОНТУРНІ КАРТИ

з історії України

11 (1939 – 2005 рр.)
клас



ІНСТИТУТ
ПЕРЕДОВИХ
ТЕХНОЛОГІЙ

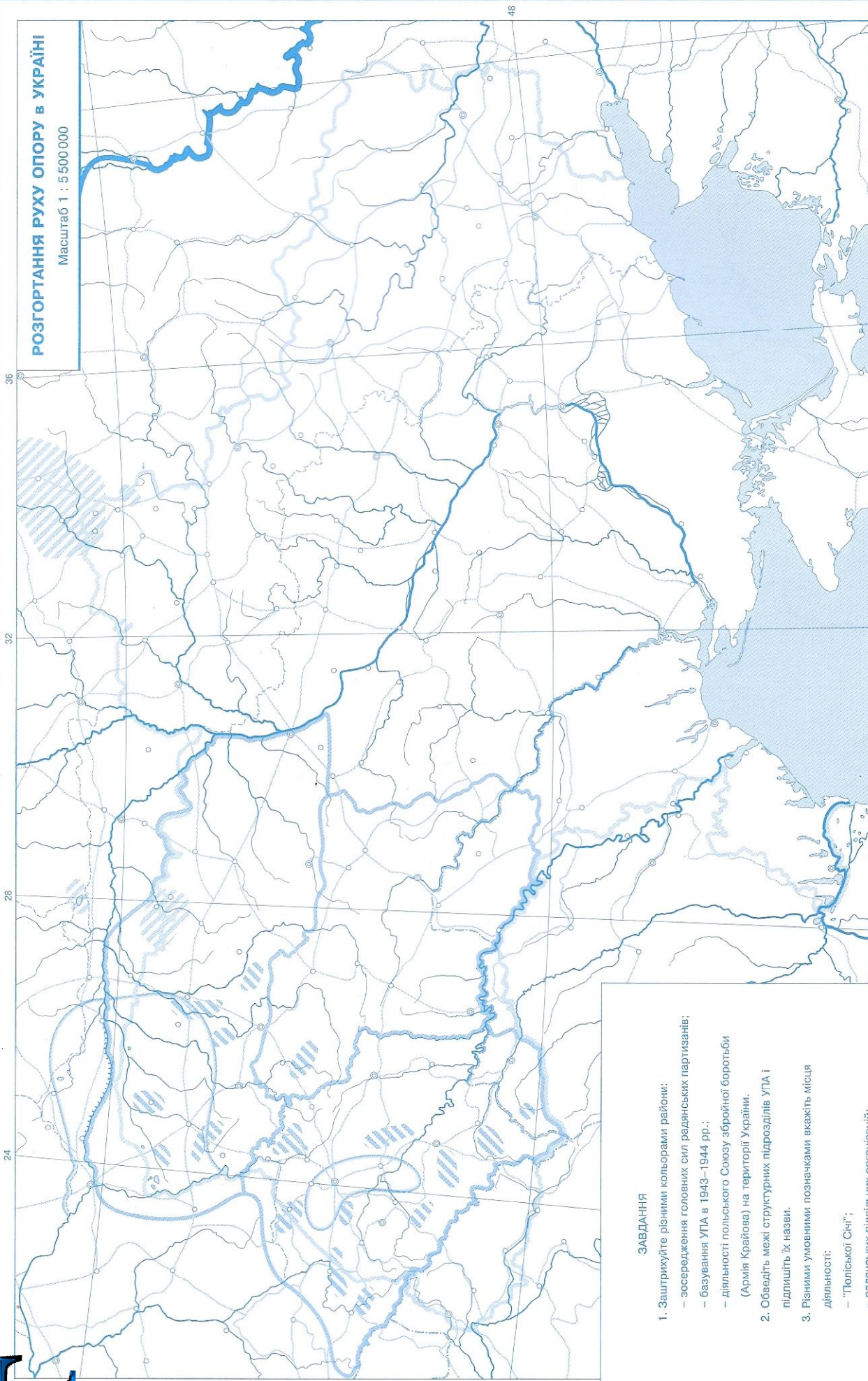
З М І С Т

сторінки		масштаб
1	УКРАЇНА напередодні ДРУГОЇ СВІТОВОЇ ВІЙНИ	1 : 6 700 000
2	УКРАЇНА на початку ДРУГОЇ СВІТОВОЇ ВІЙНИ (1 вересня 1939 – 22 червня 1941 р.)	1 : 4 400 000
3	УКРАЇНА у ВЕЛИКІЙ ВІТЧИЗНЯНІЙ ВІЙНІ (червень 1941 – листопад 1942 р.)	1 : 7 000 000
4	ОКУПАЦІЙНИЙ РЕЖИМ в УКРАЇНІ	1 : 5 500 000
5	РОЗГОРТАННЯ РУХУ ОПОРУ в УКРАЇНІ	1 : 5 500 000
6	УКРАЇНА у ВЕЛИКІЙ ВІТЧИЗНЯНІЙ ВІЙНІ (листопад 1942 – січень 1945 р.)	1 : 7 000 000
7	УКРАЇНА в ПЕРІОД ВІДБУДОВИ (1943 – 1953 рр.)	1 : 5 500 000
8	УКРАЇНА в УМОВАХ ДЕСТАЛІНІЗАЦІЇ (1953 – 1964 рр.)	1 : 5 500 000
9	ОПОЗИЦІЙНИЙ РУХ 1950 – 1980-их років.	1 : 5 500 000
10	УКРАЇНА в 1985–1991 роках. БОРІТЬБА за НЕЗАЛЕЖНІСТЬ	1 : 5 500 000
11	ЗОВНІШНЯ ПОЛІТИКА УКРАЇНИ. УКРАЇНСЬКА ДІАСПОРА	1 : 120 000 000
12-13	УКРАЇНА СУЧАСНА	1 : 3 500 000



РОЗГОРТАННЯ РУХУ ОПОРУ В УКРАЇНІ

Масштаб 1 : 5 000 000



ЗАВДАННЯ

- Заштрикуйте різними кольорами райони:
 - зосередження головних сил радянських партизанів;
 - базування УПА в 1943–1944 рр.;
 - діяльності польського Союзу збройної боротьби (Армія Крайова) на території України.
- Обведіть межі структурних підрозділів УПА і підпишіть їх назви.
- Різними умовними позначками вкажіть місця діяльності:
 - "Польської Січі";
 - радянських підпільних організацій;
 - українських підпільних організацій;
 - українських легальних організацій, які боролися за права українців в умовах окупації.
- Позначте місця диверсій радянських партизанів на залізницях.

УМОВНІ ПОЗНАЧЕННЯ

.....

.....

.....

.....

.....

.....

ОПОЗИЦІЙНИЙ РУХ 1950–1980-их років
Масштаб 1 : 5 500 000



ЗАВДАННЯ

1. Надлишіть і підкресліть основні центри дисидентського руху.
2. Позначте різними знаками:
 - міста, де діяли підпільні групи, партії, організації у 1950 – 60-ті рр.
 - основні осередки "літдестиніцтва";
 - осередки робітничого руху 1950 – 60-х рр.
3. Поряд з Києвом позначте дату створення УГГ.
4. Позначте основні осередки дисидентського руху 70-х – початку 80-х років.
5. Заштрихуйте регіони боротьби за відновлення УГКЦ.

УМОВНІ ПОЗНАЧЕННЯ

.....

.....

.....

.....

.....

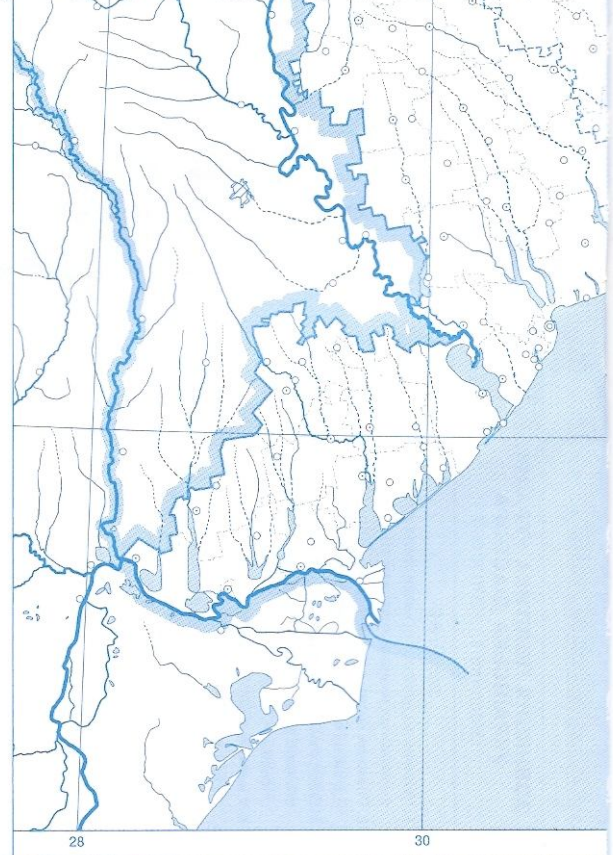
.....





УМОВНІ ПОЗНАЧЕННЯ

Blank area with horizontal dotted lines for a legend or notes.





ЗАВДАННЯ

1. Обведіть кордони України.
2. Біля Києва позначте дату прийняття Конституції України.
3. Надпишіть назви сусідніх держав, поряд впишіть дати укладення міждержавних угод.
4. Обведіть межі областей та АРК. Надпишіть назви областей, АРК, Київ та Севастополь.
5. Підкресліть назви країн, з якими існували або існують територіальні суперечки. Обведіть місця територіальних суперечок.
6. Заштрихуйте області з найбільш розвиненим промисловим потенціалом.

Контурні карти до Атласу з історії України для одинадцятого класу,
рекомендованого Міністерством освіти і науки України (лист №1/11-3537 від 01.07.2005 р.),
укладено та підготовлено до друку
Закритим акціонерним товариством "Інститут передових технологій" 2005 р.
Перевидано 2008 р.

Свідоцтво про внесення до Державного реєстру
суб'єкта видавничої справи ДК № 2017 від 23.11.2004 р.

вул. Попудренка, 54, Київ-94, МСП-660; 02660 Тел. (044) 568-53-32, 296-71-71
E-mail: iat@antex.kiev.ua <http://www.iat.kiev.ua>

Упорядники: О.В. Гісем, Д.В. Ісаєв, О.О. Мартинюк
Редактори: Д.В.Ісаєв, І.В.Бусол

Підписано до друку 10.07.2008 р.

© ЗАТ "Інститут передових технологій", 2005 – 2008 рр.
© ТОВ "Антекс-К", 2005 – 2008 рр.
© Барладін О.В., 2005 – 2008 рр.

